

中国科学技术大学 2024-2025 学年第一学期本科生期末考试

力 学

满分 100 分，考试时间: 1 月 8 日 8:30 - 10:30.

本试卷为回忆版，题目表述与原卷严重不符，仅代表个人看法.

一、简答题：5 小题，共 25 分.

1. (5 分)

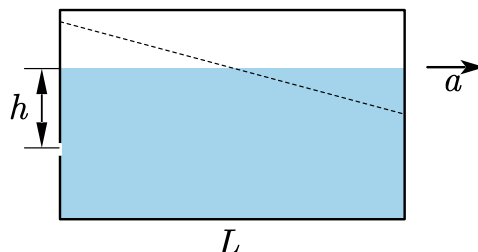
匀速运动的车厢内有一水平光滑台面，台面上有一物块，通过弹簧和车厢前壁相连. 在车厢系中物块做简谐运动. 判断在地面系中系统的机械能是否守恒，并说明理由.

2. (5 分)

台风的形成和什么物理效应有关？简要说明.

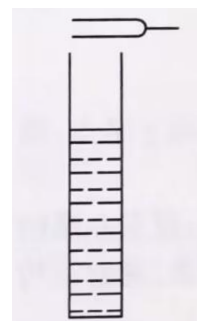
3. (5 分)

如图所示，长为 $L = 4\text{m}$ 水箱以加速度 $a = 2\text{m/s}^2$ 向右运动. 水箱后壁开有一小孔，位于静止时液面下方 $h = 1\text{m}$ 处. 求水从水箱中流出时相对水箱的速度，取 $g = 10\text{m/s}^2$.



4. (5 分)

现有一频率为 $f_0 = 250.0\text{Hz}$ 的振源，一音叉发出的声音和该振源能形成 1.5Hz 的拍. 若在音叉上粘一小块橡皮泥，拍频变大，求音叉的频率. 如图所示，若将音叉置于一盛满水的容器中，逐渐降低液面高度，液面高度在 L_1 和 L_2 时听到相邻两次共鸣. 已知声速为 340.0m/s , 求 L_1 和 L_2 的差值.



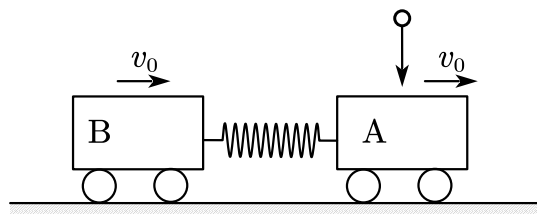
5. (5 分)

解释牛顿时空观和爱因斯坦相对论时空观的本质区别.

二、计算题：5 小题，共 75 分.

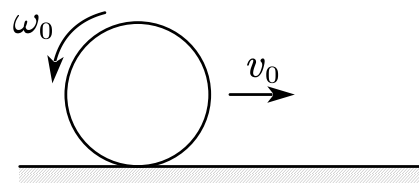
6. (15 分)

如图，两个质量为 M 的小车 A 和 B 用劲度系数为 k 的轻弹簧相连，以共同的速度 v_0 向右运动. 一质量为 m 的小球竖直落在 A 上并和 A 粘在一起. 设 $M = 2m$ ，求此后弹簧获得的最大弹性势能.



7. (15 分)

如图，在摩擦系数为 μ 的地面上，以水平向右的初速度 v_0 和逆时针的角速度 ω_0 释放一乒乓球，乒乓球质量为 m ，半径为 r . 若最后乒乓球恰好静止，求 v_0 和 ω_0 满足的关系. 已知质量为 m 、半径为 r 的匀质薄球壳的转动惯量为 $\frac{2}{3}mr^2$.



8. (15 分)

一潜艇在水下以 18km/h 的速度匀速航行，其声呐向后发射频率为 75.0kHz 超声波. 经过 $t = 4.5\text{s}$ 收到探测目标反射的声波，频率变为 75.5kHz . 已知水中的声速为 1485m/s .

- (1) 求探测目标反射的声波在水中的频率和波长.
- (2) 求探测目标的速度，用 km/h 表示.
- (3) 求潜艇收到反射信号时，探测目标与潜艇的距离.

9. (15 分)

在密度为 ρ_f ，黏度为 η 的粘滞流体中，一半径为 r ，密度为 ρ 的小球自由下落. 已知重力加速度为 g .

- (1) 求收尾速度.
- (2) 当小球速度达到收尾速度一半时，求经过的时间.

10. (15 分)

如图，地面上有两艘飞船 A 和 B，相距 1km，用一根弹性绳连接，弹性绳恰好处处于原长。飞船的中点处建有一座信号站，与某时刻向两艘飞船同时发出光信号。地面系中，两艘飞船在 $t = 0$ 时刻接收到光信号，并以很大的加速度几乎瞬间加速到 $v = 0.8c$ 向右运动。

- (1) 求地面系认为 $t = 1\text{s}$ 时两艘飞船的距离。
- (2) 地面系认为弹性绳是否伸长？若伸长，求弹性绳的伸长量；若否，说明理由。
- (3) 完成加速后，飞船系认为弹性绳是否伸长？说明理由。

